

# TEST THÉORIQUE

(Chariots des catégories 1,3 et 5)


Vous répondez aux questions en cochant la case correspondant à la bonne réponse. Certaines questions peuvent entraîner plusieurs réponses valables : cochez alors les cases correspondantes. Seules les réponses totalement exactes seront prises en compte.

**1 – Quel est l'intervalle qui sépare deux vérifications générales périodiques d'un chariot élévateur à conducteur porté ?**

- 6 ans
- 1 an
- 6 mois
- 1 an et 6 mois

**2 – Quelle est la catégorie de ce chariot et quelle est son utilisation courante ?**

- Catégorie 1.
- Transporter, déplacer, élever des charges, charger et décharger les camions.
- Gerber en palettier en grande hauteur.
- Catégorie 5.
- Catégorie 3.



**3 – Les vérins d'élévation sont :**

- À double effet
- À simple effet


**4 – Que signifie CG sur une plaque de charge ?**

- Centre de gravité
- Hauteur d'élévation maximum
- Poids de la charge en gramme
- Côté gauche

BEP LC CAP AEM CAP VMPREA	EP1 – Phase 1 Conduite de chariots EP2 – Phase 1	<b>CORRIGÉ</b> Test théorique n° 1	Session 2008	Page 1 sur 3
---------------------------------	--	---------------------------------------	-----------------	--------------

5 – Que signifie ce pictogramme :

- Corrosif
- Nocif
- Très toxique
- Irritant
- Danger de mort
- Toxique



Xn

6 – Pour descendre une pente avec un chariot frontal en charge :

- Le faire aussi bien en marche avant qu'en marche arrière à partir du moment qu'un autre salarié guide dans la manoeuvre
- Ne pas le faire
- Le faire en marche arrière
- Le faire en marche avant, mât incliné à fond vers l'arrière

7 – Un cariste doit pénétrer à l'intérieur d'une remorque de camion avec son chariot. Un collègue de travail s'y trouve déjà avec un transpalette manuel. Le cariste :

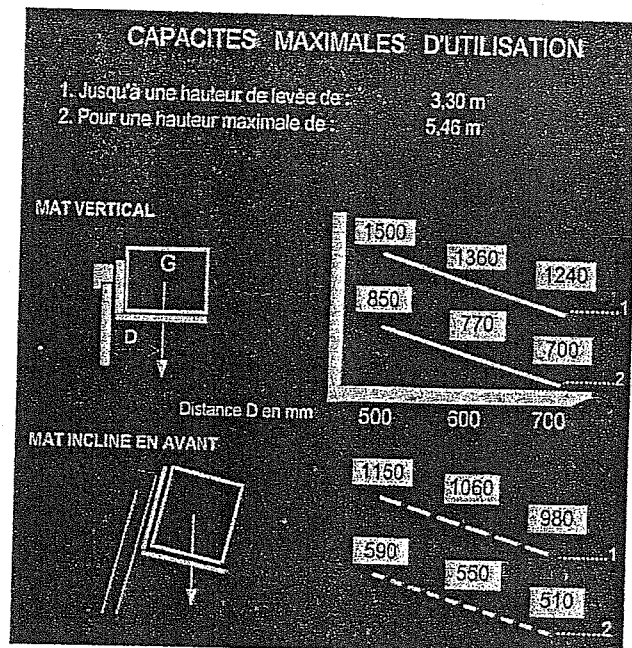
- Attend que son collègue finisse son travail et sorte de la remorque
- Entre directement dans le véhicule
- S'arrête avant d'entrer et avertit de sa présence
- Entre directement dans le véhicule en appuyant sur l'avertisseur longuement.

8 – Que représente la levée libre d'un chariot ?

- La hauteur maximale de levage
- La hauteur maximale de sortie du mât
- La hauteur de levage sans déploiement du mât
- La hauteur de construction

9 – Quel est le poids maximum que peut soulever ce chariot, avec un mât incliné en avant pour une palette de 1,40 m gerbée à 5,46 m ?

- 700 kg.
- 550 kg.
- 510 kg.
- 980kg.
- 1360 kg.



10 – Quelle est la symbolisation NF d'un chariot à mât rétractable électrique à bandages pleins d'une capacité de 2 000 kg à 500 mm du talon des fourches ?

- F 2050 EB
- F 5020 BE
- R 2050 EB
- R 5020 BE